

Nom : _____ Date : _____

Groupe : _____

La pharmacie

Ta maman est allée à la pharmacie. Elle a acheté deux bouteilles de shampoing à 3,49\$, une mousse à raser pour ton père à 4,69\$ et des bulles pour le bain à 2,99\$. Il n'y a aucune taxe sur ces produits dans ce magasin. Elle donne à la caissière un billet de 5 \$ et un billet de 10 \$. Combien de change la caissière va-t-elle lui remettre ?

SITUATION D'APPLICATION S1



Manifestations observables d'un niveau...

Critère d'évaluation

A1 Extraire les données

A2. Structurer sa démarche

A3. Calculs précis

J'analyse la situation

Ce que je cherche...

Les achats

Le paiement




Laisse toutes les traces de ta démarche et assure-toi qu'elles sont claires parce que ce sont elles qui justifient ce que tu trouves.



La pharmacie (suite)

Dessine toutes les pièces que la caissière va lui remettre.

Cahier de l'élève


SITUATION D'APPLICATION S3	
	Manifestations observables d'un niveau... A B C D
Critère	Interprétation juste d'un message
	Production d'un message approprié
	Précision des calculs

Nom : _____ Date : _____

Groupe : _____

Au Centre d'achat

Ta maman a dépensé 289,74 dans une belle boutique de vêtements, pendant que ton père est allé faire l'épicerie. De ton côté, tu es allé t'acheter de nouvelles couvertures pour ton lit qui t'ont coûté 89,63\$. Ton père et ta mère avaient un budget de cinq billets de 100 \$. Au retour à la maison, lorsque tous les trois vous additionnez votre change ensemble. Vous trouvez un certain montant d'argent qui est représenté ici. Ton père vous demande, combien lui a coûté l'épicerie. Peux-tu les aider?

SITUATION D'APPLICATION S3	
	Manifestations observables d'un niveau... A B C D
Critère	Interprétation juste d'un message
	Production d'un message approprié
	Précision des calculs

Ton change : 0,01 0,01 0,10 0,25 10,00\$

Le change de ta mère 0,01 0,25 10,00\$

Le change de ton père: 0,05 0,10 0,25 1,00 2,00 5,00\$ 20,00\$



Au Centre d'achat (suite)



Quel est le montant de l'épicerie ?

Cahier de l'élève

DÉPLOYER UN RAISONNEMENT

S2



Manifestations observables d'un niveau...

A B C D


Critère	Manifestation de sa compréhension	
	Application des concepts	
	Application des processus	
	Calculs précis	


J'analyse la situation

Ce que je sais...

Ce que je cherche...

C'est essentiel d'y penser...





Chez Breault et Martineau

Tes parents sont allés acheter un cinéma maison. Ils vont payer 54,13\$ à chaque mois pendant 2 ans. Combien leur coûte ce beau divertissement?

J'analyse la situation

Les achats

Le paiement

DÉPLOYER UN RAISONNEMENT


S2



Manifestations observables d'un niveau...
A B C D

Critère	Manifestation de sa compréhension	
	Application des concepts	
	Application des processus	
	Calculs précis	

Ce que je cherche...



Laisse toutes les traces de ta démarche et assure-toi qu'elles sont claires parce que ce sont elles qui justifient ce que tu trouves.

Nom : _____ Date : _____

Groupe : _____

Chez Subway

SITUATION D'APPLICATION S1



Manifestations
observables
d'un niveau...

Critère
d'évaluation

A1 Extraire les
données

A2. Structurer sa
démarche

A3. Calculs précis

Avec ton ami, tu es allé manger chez Subway. Vous avez chacun un trio de 12 pouces. Cela t'a coûté 5,45 et ton ami cela lui a coûté 5,75. Vous avez chacun 10 dollars. Combien de change la caissière va-t-elle vous remettre à chacun?

J'analyse la situation

Ce que je cherche...

Les achats

Le paiement



Laisse toutes les traces de ta démarche et assure-toi qu'elles sont claires parce que ce sont elles qui justifient ce que tu



Chez Subway (suite)



Avec le change, vous désirez aller vous offrir de la crème glacée. Ton ami paye son cornet à trois boules 2,25\$ et toi ton banana split 4,05\$.

Combien d'argent reste-t-il à chacun après cet achat ?

Dessine-le .

Ton ami

Toi

Cahier de l'élève

SITUATION D'APPLICATION S1



Manifestations observables d'un niveau...

Critère d'évaluation	A1 Extraire les données	
	A2. Structurer sa démarche	
	A3. Calculs précis	

SITUATION D'APPLICATION S3



Manifestations observables d'un niveau...
A B C D

Critère	Interprétation juste d'un message	
	Production d'un message approprié	
	Précision des calculs	