

Nom : _____ Date : _____

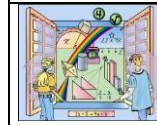
Groupe : _____

Cahier de l'élève

Des pneus d'hiver



SITUATION D'APPLICATION S2



Manifestations observables d'un niveau...

Critère d'évaluation

A1 Extraire les données

Aide

A3. Calculs précis

Le 20 octobre 2011, ton père va acheter 4 pneus d'hiver chez Lexus à Laval. Ils se vendent 131 \$ chacun au garage Lexus. Il demande au mécanicien de les installer et les balancer ce qui lui coûte 39,95\$. Il fait aussi ajouter de l'azote dans chaque pneu et cela lui coûte 11,90\$ pour deux pneus, il en fait mettre dans les 4 pneus. Les taxes s'élèvent à 39,35\$ pour la TPS et 52,39\$ pour la TVQ.

A. Complètes la facture du garage.

Tes calculs

Date :

Nom du magasin :

Facture No 2011-10-20-179

Liste des achats	quantité	Prix de vente	Prix total
Pneus d'hiver			
Azote		11,90 / 2	
Installer et balancer	4	39,95\$ / 4	
TPS (5%) :			
TVQ (8,5%) :			
TOTAL			

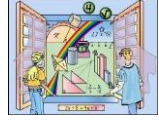
Des pneus d'hiver (suite)

Ton père paye avec quatre billets de cent dollars, 4 billets de 50\$, 4 billets de 20\$ et 3 billets de 10\$.

B. Combien de change lui remet la caissière?

Mes étapes

Mes calculs

SITUATION D'APPLICATION S3		
	Manifestations observables d'un niveau... A B C D	
Critère d'évaluation	Démarche	
	Aide	
	Interprétation juste d'un message	
	Production d'un message approprié	
	Précision des calculs	



Je dessine le change

Nom : _____ Date : _____

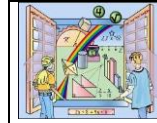
Groupe : _____

Cahier de l'élève

Des électroménagers



SITUATION D'APPLICATION S2



Manifestations observables d'un niveau...

Critère d'évaluation

A1 Extraire les données

Aide

A3. Calculs précis

Le 15 octobre 2011, tes parents vont acheter de nouveaux électroménagers et donner leur vieux à ta sœur qui s'en va en appartement. Chez Corbeil, le réfrigérateur se vend 539,99\$, le poêle se vend 467,99\$. Le magasin leur offre une réduction de 145\$ s'ils achètent aussi la laveuse et la sècheuse. Tes parents trouvent que l'offre est intéressante. Ils choisissent un ensemble de 759,99 \$ pour une laveuse et une sècheuse superposées.

Les taxes s'élèvent à 81,10\$ pour la TPS et 144,76\$ pour la TVQ.

A. Complète la facture du magasin.

Date :

Nom du magasin :

Facture No 2011-10-15-087

Liste des achats	quantité	Prix de vente	Prix total
	Rabais du magasin :		
Sous-total			
TPS (5%) :			
TVQ (8,5%) :			
TOTAL			

Tes calculs

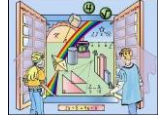
Des électroménagers (suite)

Ton père paye avec neuf billets de cent dollars, dix billets de cinquante dollars, 12 billets de 20\$.

B. Combien de change lui remet la caissière?

Mes étapes

Mes calculs

SITUATION D'APPLICATION S3		
	Manifestations observables d'un niveau... A B C D	
Critère d'évaluation	Démarche	
	Aide	
	Interprétation juste d'un message	
	Production d'un message approprié	
	Précision des calculs	



Je dessine le change

Nom : _____ Date : _____


Groupe : _____

Cahier de l'élève

Des cadeaux de Noël



SITUATION D'APPLICATION S1

		Manifestations observables d'un niveau...
Critère d'évaluation	A1 Extraire les données	
	Aide	
	Démarche	
	Aide	
	A3. Calculs précis	

Le 10 novembre les parents de Guillaume sont allés magasiner de magnifiques cadeaux de Noël chez Future Shop. Il y a un 10% d'escompte si les achats se font avant le mois de décembre. C'est l'année des appareils électroniques. Ils ont acheté trois cellulaire Blackbury à 174,59\$ chacun, un super GPS à 316,98\$ et un ordinateur portable à 1029,48 \$.

Les taxes s'élèves à 84,15\$ pour la TPS et 150,21\$ pour la TVQ.

Date :
Nom du magasin :

Facture No 2011-11-10-131

Liste des achats	quantité	Prix de vente	Prix total

	Escompte de 10 %	
Sous-total		
TPS (5%) :		
TVQ (8,5%) :		
TOTAL		

Tes calculs


Des cadeaux de Noël (suite)

Ta mère paye avec un chèque de 1250,55\$, deux billets de cent dollars, cinq billets de 50\$, 12 billets de 20\$ et deux billets de 10\$.

B. Combien de change lui remet la caissière?

Mes étapes

Mes calculs

SITUATION D'APPLICATION S3		
	Manifestations observables d'un niveau... A B C D	
Critère d'évaluation	Démarche	
	Aide	
	Interprétation juste d'un message	
	Production d'un message approprié	
	Précision des calculs	



Je dessine le change

